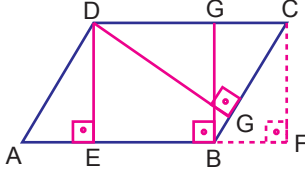


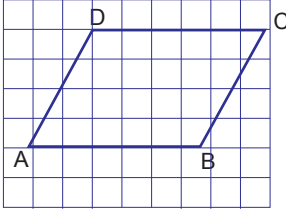
1.



Aşağıdakilerden hangisi AB kenarının yüksekliklerinden biri olamaz?

- A) [DE] B) [GB] C) [CF] D) [DG]

2.

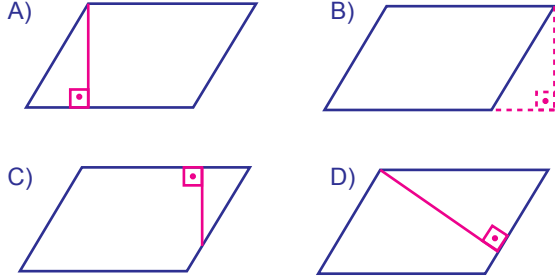


Yandaki paralelkenarın AB kenarına ait yüksekliği kaç birimdir?

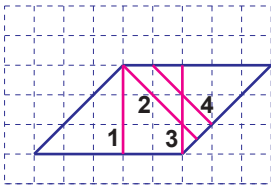
- A) 2 B) 3 C) 4 D) 5

3.

Aşağıdaki paralelkenarlardan hangisinin yüksekliği yanlış çizilmiştir?



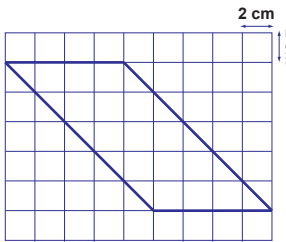
4.



Yandaki paralelkenarda numaralandırılmış doğru parçalarından hangisi paralelkenarın yüksekliklerinden biri değildir?

- A) 1 B) 2 C) 3 D) 4

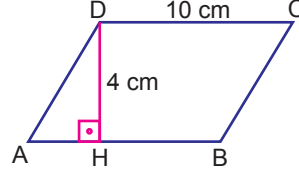
5.



Yandaki paralelkenarın yüksekliği kaç santimetredir?

- A) 10 B) 8 C) 6 D) 5

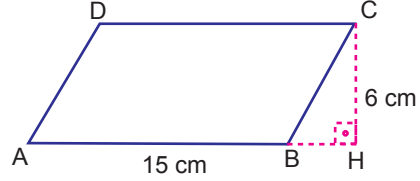
6.



Yukarıdaki şekilde verilen paralelkenarın alanı kaç santimetrekaredir?

- A) 40 B) 30 C) 20 D) 15

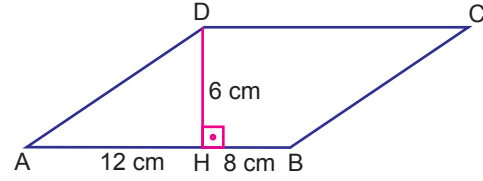
7.



Yukarıdaki şekilde verilen paralelkenarın alanı kaç santimetrekaredir?

- A) 30 B) 45 C) 60 D) 90

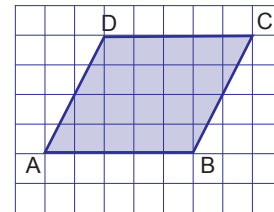
8.



Yukarıdaki şekilde verilen paralelkenarın alanı kaç santimetrekaredir?

- A) 60 B) 70 C) 90 D) 120

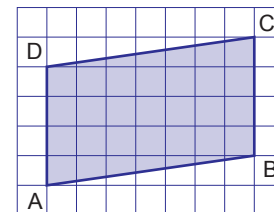
9.



Yandaki paralelkenarın alanı kaç birimkaredir?

- A) 10 B) 15 C) 20 D) 30

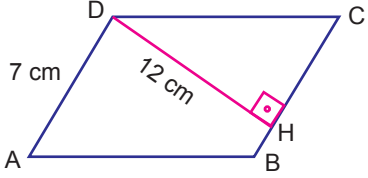
10.



Yandaki paralelkenarın alanı kaç birimkaredir?

- A) 35 B) 28 C) 16 D) 14

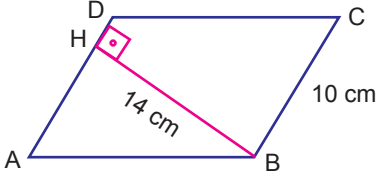
11.



Yandaki paralelkenarın alanı kaç birimkaredir?

- A) 84 B) 48 C) 42 D) 35

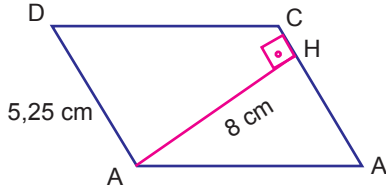
12.



Yandaki paralelkenarın alanı kaç birimkaredir?

- A) 140 B) 70 C) 60 D) 35

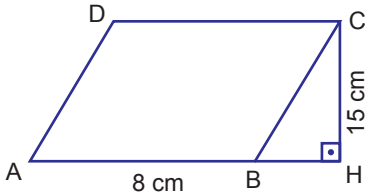
13.



Yandaki paralelkenarın alanı kaç birimkaredir?

- A) 44 B) 42 C) 21 D) 11

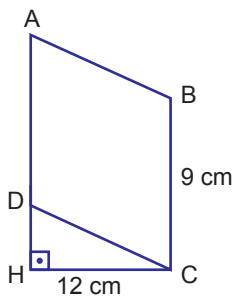
14.



Yandaki şekilde verilenlere göre paralelkenarın alanı $A(ABCD) = ?$

- A) 120 B) 90 C) 60 D) 45

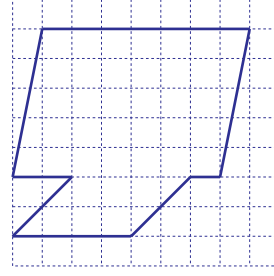
15.



Yandaki şekilde verilenlere göre paralelkenarın alanı $A(ABCD) = ?$

- A) 48 B) 54 C) 96 D) 108

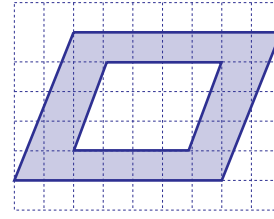
16.



Yanda birim kareler üzerine çizilmiş olan şeklin alanı kaç birimkaredir?

- A) 25 B) 35 C) 42 D) 43

17.



Yanda birim kareler üzerine çizilmiş boyalı şeklin alanı kaç birimkaredir?

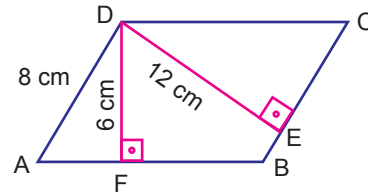
- A) 47 B) 35 C) 23 D) 20

18.

Çevresi 60 cm olan paralelkenarın kısa kenarı 10 cm ve uzun kenara ait yükseklik 15 cm ise, paralelkenarın alanı kaç santimetrekaredir?

- A) 350 B) 300 C) 250 D) 200

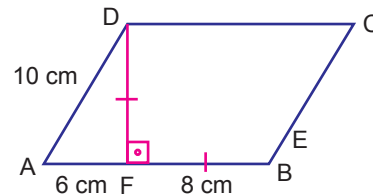
19.



Yandaki şekilde verilenlere göre, $[AB]$ doğru parçasının uzunluğu kaç santimetredir?

- A) 16 B) 14 C) 12 D) 10

20.



Yandaki şekilde $|DF| = |FB|$ lereolduğuna göre paralelkenarın alanı $A(ABCD)$ kaç santimetrekaredir?

- A) 160 B) 140 C) 112 D) 80