

Uzunluk Ölçme Birimleri

Kazanım Testi

1.
500 mm kaç santimetredir?
A) 50 B) 5 C) 0,5 D) 0,05
2.
6 m kaç milimetredir?
A) 60 B) 600
C) 6000 D) 60 000
3.
12 km kaç metredir?
A) 0,012 B) 12
C) 1200 D) 12 000
4.
3800 m kaç kilometredir?
A) 38 000 000 B) 3800
C) 3,8 D) 0,38
5.
23 m kaç kilometredir?
A) 12,3 B) 0,23
C) 0,230 D) 0,023
6.
43 mm kaç santimetredir?
A) 0,43 B) 0,043
C) 4,3 D) 4300
7.
43 m kaç santimetredir?
A) 0,43 B) 430
C) 4300 D) 43 000
8.
1,5 m kaç santimetredir?
A) 15 B) 150
C) 1500 D) 15 000

9.

$$24000 \text{ cm} = \dots\dots \text{ m}$$

Yukarıdaki yerine aşağıdaki sayılardan hangisi yazılmalıdır?

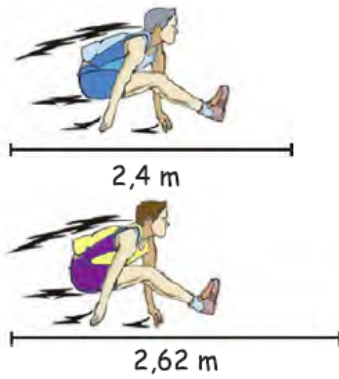
- A) 24 B) 240 C) 2400 D) 2,4

11.

Aşağıdakilerden hangisinde uzunlukların karşılaştırılması yanlıştır?

- A) $7 \text{ cm} > 63 \text{ m}$
 B) $4 \text{ m} > 296 \text{ cm}$
 C) $2 \text{ km} > 1500 \text{ m}$
 D) $43 \text{ cm} > 57 \text{ mm}$

13.



Uzun atlama yarışı yapan Ahmet ve Mehmet'in atladıkları uzunlukların farkı kaç santimetredir?

- A) 20 B) 22 C) 220 D) 250

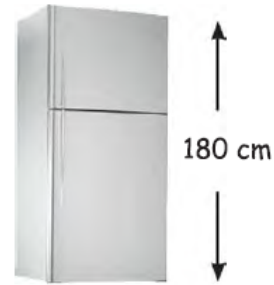
10.



Yukarıdaki kitabın boyu aşağıdaki uzunluklardan hangisi olabilir?

- A) 0,1 km B) 0,3 m C) 2 cm D) 25 mm

12.

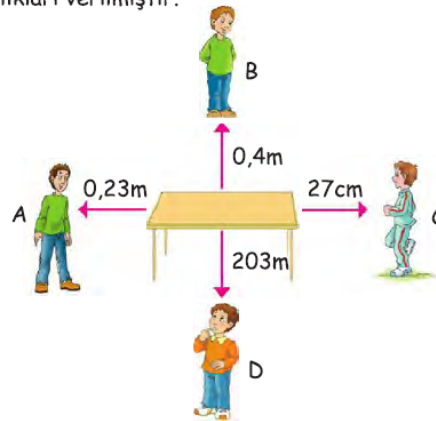


Yukarıda verilen uzunluk aşağıdakilerden hangisine eşittir?

- A) 1,8 m B) 1,8 km
 C) 3200 mm D) 1800 m

14.

Aşağıdaki masaya A, B, C ve D kişilerinin uzaklıkları verilmiştir.



Buna göre hangi harfle belirtilen kişi masaya daha yakındır?

- A) A B) B C) C D) D

Cevap Anahtarı

1-) A | 2-) C | 3-) D | 4-) C | 5-) D | 6-) C | 7-) C | 8-) B | 9-) B | 10-) B | 11-) A | 12-) A | 13-) B | 14-) A |